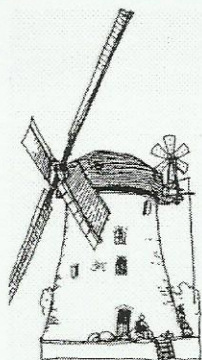
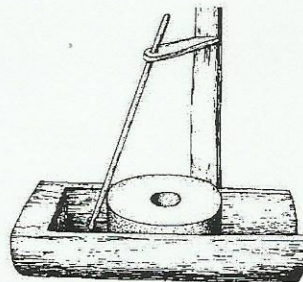


5. uzdevums (5 punkti).
Izpēti attēlus un atbildi uz jautājumiem!

A




B



C



D



5.1. Kurā rindā izgudrojumi sakārtoti hronoloģiskā secībā? Apvelc pareizās atbildes ciparu! (1 punkts)

- 1 ABDC
- 2 BDAC
- 3 BADC

5.1. _____

5.2. Kurās cilvēku darbības jomās tika un tiek izmantoti attēlos redzami mehānismi? (4 punkti)

5.2.1. _____

5.2.2. _____

5.2.3. _____

5.2.4. _____

- A _____
- B _____
- C _____
- D _____

Kopā par 5. uzd.: _____

6. uzdevums (4 punkti). Uzraksti notikuma cēloni un sekas!

Cēlonis	Notikumi	Sekas
	1905. gada 13. janvāra demonstrācija Rīgā	
	1934. gada 15. maija apvērsums Latvijā	

1. _____

2. _____

3. _____

4. _____

Kopā par 6. uzd.: _____